

آزمون طراحی سیاه و سفید
اداره کل فرهنگ و ارشاد اسلامی استان اصفهان

نام آموزشگاه:	شماره ملی:	نام و نام خانوادگی:
شماره کارت:		نام پدر:


۱ - شکل هندسی ذوزنقه از ترکیب کدام یک از اشکال زیر بوجود آمده است؟ (۲)

الف) مربع و مثلث ب) مثلث و دایره ج) مربع و دایره د) هیچکدام


۲ - کدامیک از انواع خطوط بیان کننده آرامش، سکون و اعتدال و به نظر غیر فعال و بدون حرکت است؟ (۲)

الف) خط عمودی ب) خط مورب ج) خط افقی د) خطوط شکسته

۳ - ریتم زیر چه نوع ریتمی است؟ نام ببرید. (۲).....



۴ - در هر کادر موارد نوشته شده را با استفاده از نقطه ایجاد کنید. (۴)




ساکن



سبکی

۵ - در شکل زیر نقطه های طلایی را نشان دهید. (۲)



۶ - ترکیب بندی حلزونی را رسم کنید. (۳)

